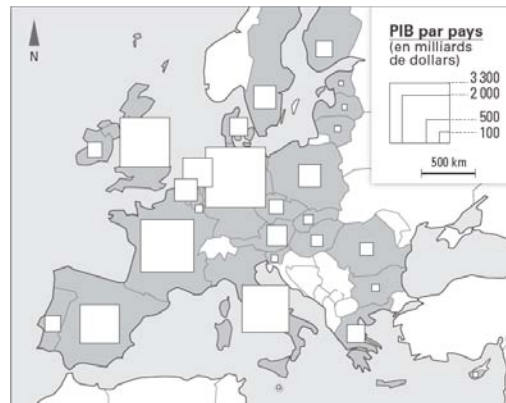


Chapitre 3. L'UE, UNE UNION D'ETATS

1. Identifier et décrire une forme de contraste de l'espace européen.

Classez les pays en fonction de leur richesse globale, par ordre décroissant :

1.
2.
3.
4.
5.
6.
7.
8.

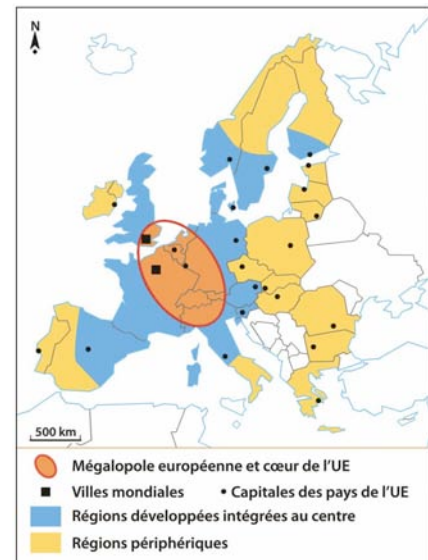


2. Réaliser un croquis représentant les différents types d'espaces dans l'Union européenne.

ÉTAPE 1 : SÉLECTIONNER LES INFORMATIONS

Complétez le tableau ci-dessous en vous appuyant sur les documents ci-contre, le Dossier 1, p. 340, et la Leçon 1, p. 348.

Sélection d'information	Réponses
Les deux capitales métropoles mondiales	■ Londres ■ ...
Les différents territoires de l'UE	■ Schengen ■ ...
Les trois grands ensembles régionaux	■ Europe du Nord-Ouest ■ ... ■ ...

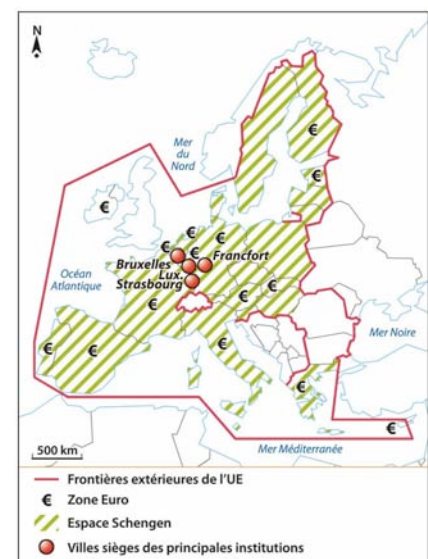


Des disparités régionales

ÉTAPE 2 : CHOISIR LES FIGURÉS

Choisissez le langage cartographique approprié en complétant le tableau ci-dessous.

Ce que je dois représenter	Quels éléments sur la carte ?	Comment les représenter ?
Les espaces dynamiques	■ ... ■ Régions développées et intégrées au centre ■ ...	● ■
Les espaces périphériques	■ ...	■
Les différents territoires de l'UE	■ Frontières extérieures de l'UE ■ ... ■ Espace Schengen ■ € ●

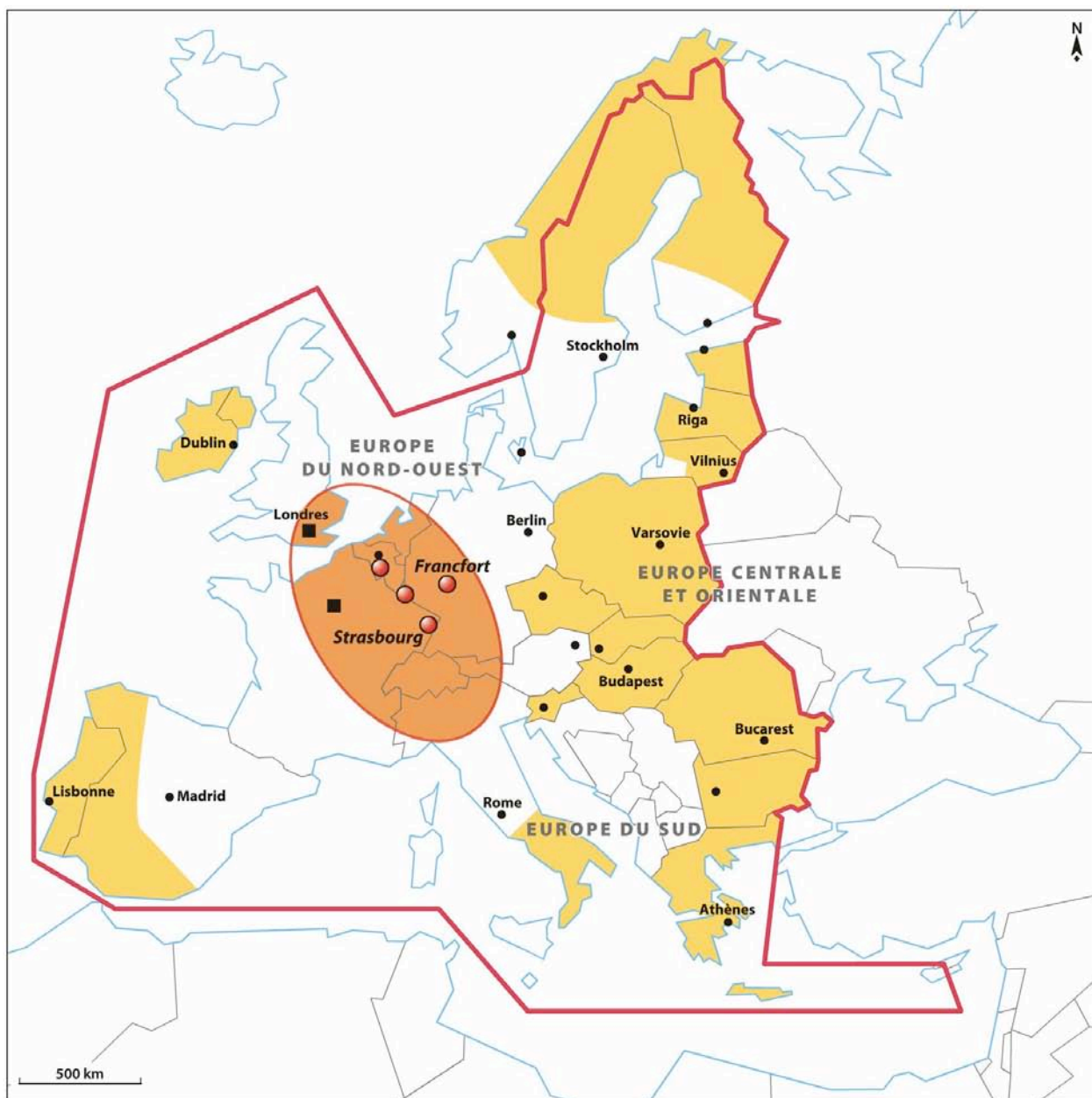


Les différents territoires de l'UE

ÉTAPE 3 : RÉALISER LE CROQUIS

1. Complétez la légende du fond de croquis de la page suivante.
2. Reportez dans la légende le titre de chacune des parties définies à l'étape 2 et reportez les figurés dans la légende.
3. Complétez le croquis.
4. Donnez-lui un titre.
5. Terminez d'écrire la nomenclature (États, villes, océan, etc.).

Chapitre 3. L'UE, UNE UNION D'ETATS



Titre:

Légende

<p>I.</p> <p>● Villes mondiales</p> <p>■</p>	<p>II. Les espaces périphériques</p> <p>■</p>	<p>III.</p> <p>— Zone Euro</p> <p>▨</p> <p>..... Villes sièges des principales institutions</p>
---	---	--