

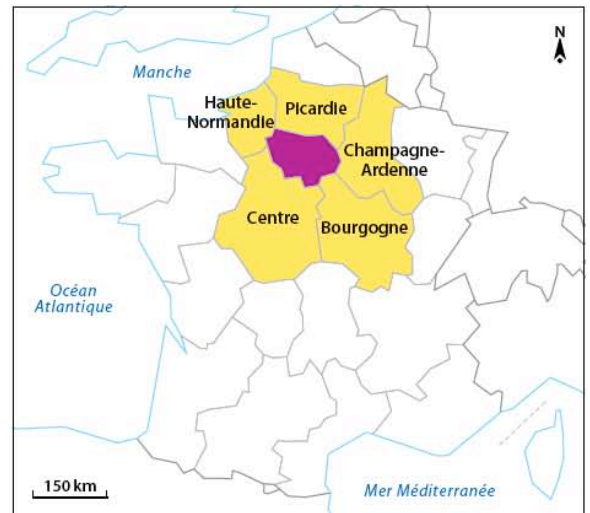
Chapitre 7. LA RÉGION ÎLE-DE-FRANCE

1. Localiser et situer les repères spatiaux de la Région Île-de-France, réaliser un croquis de l'organisation du territoire régional de l'Île-de-France.

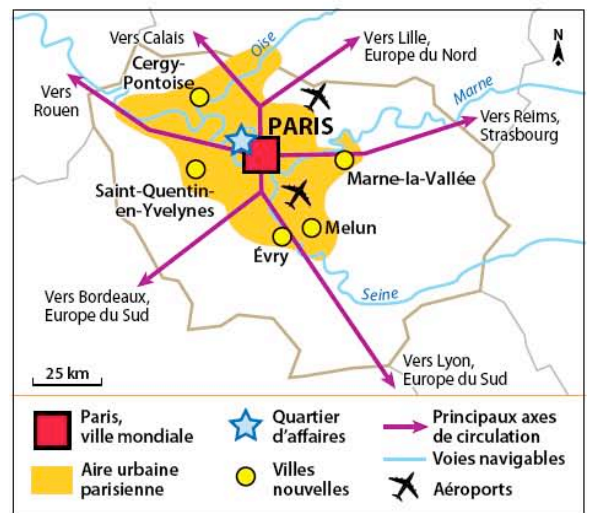
ÉTAPE 1 : SÉLECTIONNER LES INFORMATIONS

Complétez le tableau ci-dessous en sélectionnant les informations dans les documents ci-contre.

Sélection d'informations	Réponses
Capitale nationale et régionale	■ ...
Villes nouvelles	■ Marne-la-Vallée ■ Évry ...
Régions voisines	■ Picardie ■ Bourgogne ■ Champagne-Ardenne ...
Principaux axes dynamiques	■ Aire urbaine parisienne ■ Technopôles ...
Principaux axes de communication	■ Autoroutes majeures ...



L'Île-de-France et les régions limitrophes



Pôles et axes majeurs

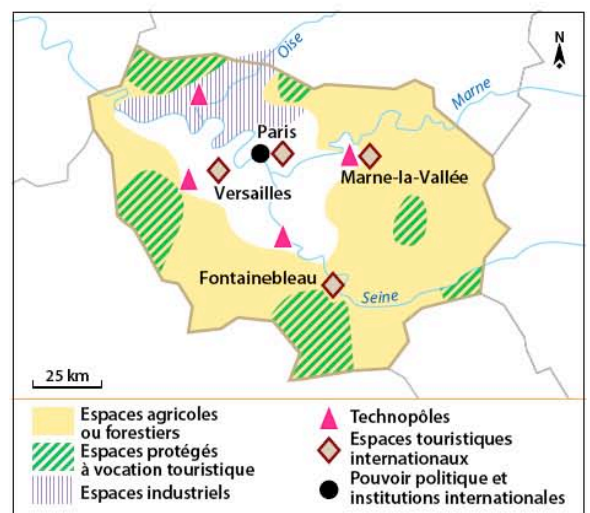
ÉTAPE 2 : CHOISIR LES FIGURÉS

Complétez le tableau ci-dessous.

Ce qu'il faut représenter	Quelles informations retenir pour le croquis ?	Comment les représenter ?
Activités, pôles et espaces dynamiques	■ Aire urbaine parisienne
	■ Villes nouvelles
	■ ...	☆
	■ ...	■
	■ Espaces protégés à vocation touristique
Axes principaux	■ Principaux axes de circulation
	■
	■ Aéroports
Un rayonnement national et international	■ ...	■
	■ ...	◇
	■ ...	●

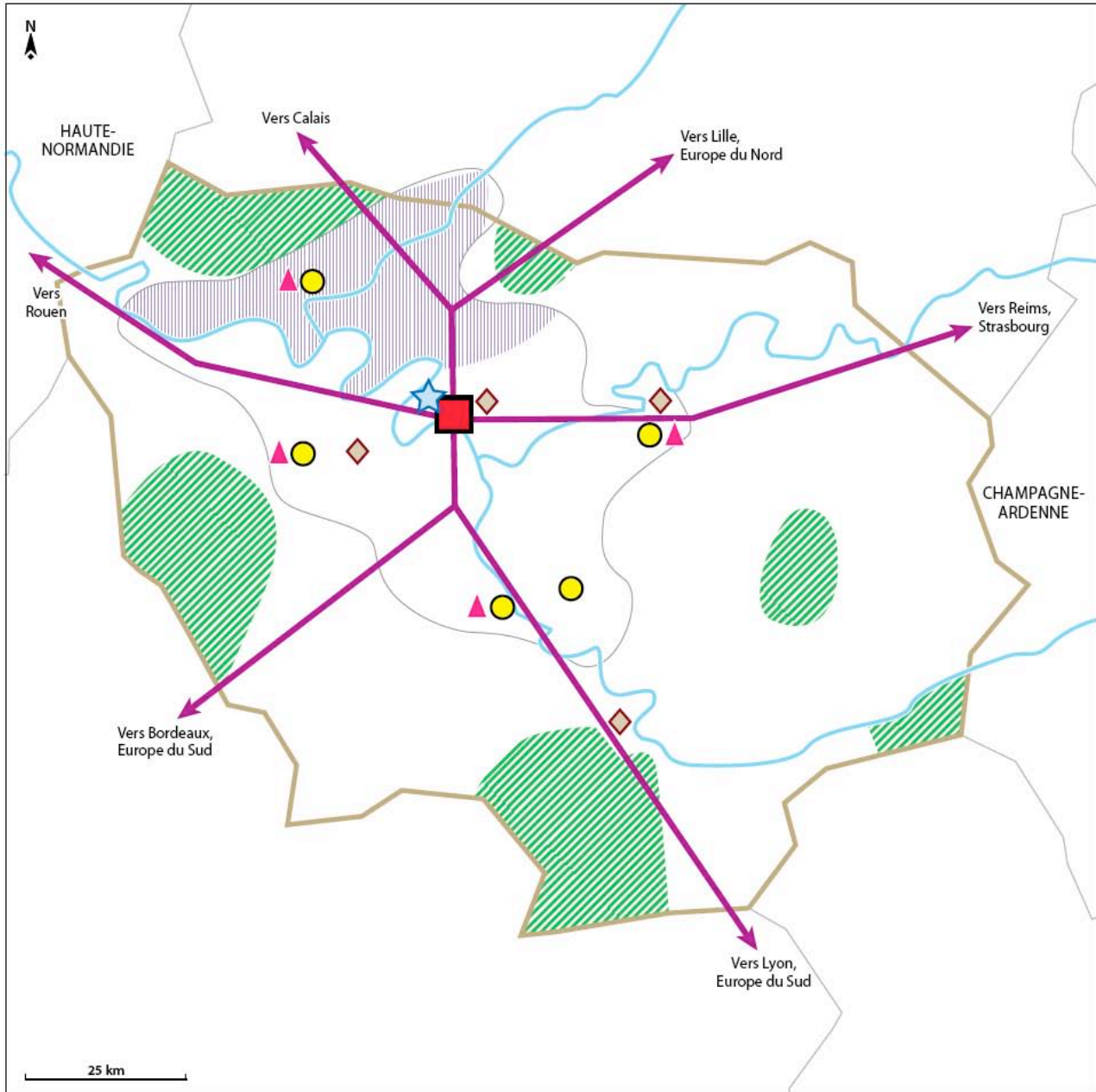
ÉTAPE 3 : RÉALISER LE CROQUIS

1. Complétez la légende du fond de croquis de la page suivante.
2. Reportez dans la légende le titre de chacune des parties définies à l'étape 2 et reportez les figurés dans la légende.
3. Complétez le croquis.
4. Donnez-lui un titre.
5. Terminez de compléter le croquis (nom des Régions voisines, villes, cours d'eau).



Principaux espaces et activités

Chapitre 7. LA RÉGION ÎLE-DE-FRANCE



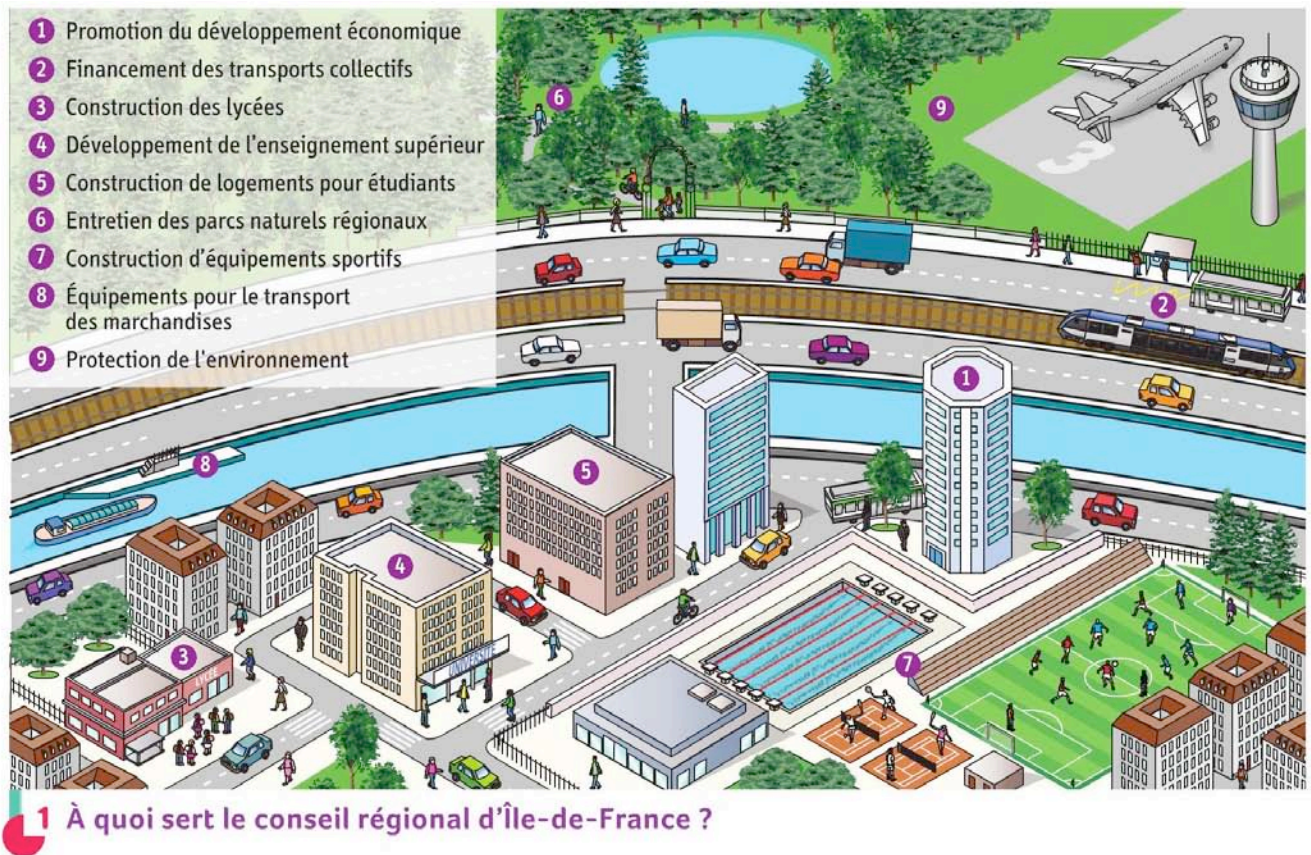
Titre:

Légende

<p>I. Activités, pôles et espaces dynamiques</p> <p>..... Aire urbaine parisienne</p> <p>●</p> <p>▲</p> <p>★</p> <p> </p> <p>..... Espaces agricoles ou forestiers</p> <p>///</p>	<p>II.</p> <p>→</p> <p>..... Aéroports</p>	<p>III. Un rayonnement national et international</p> <p>■</p> <p>◆</p> <p>..... Pouvoir politique et institutions internationales</p>
--	---	--

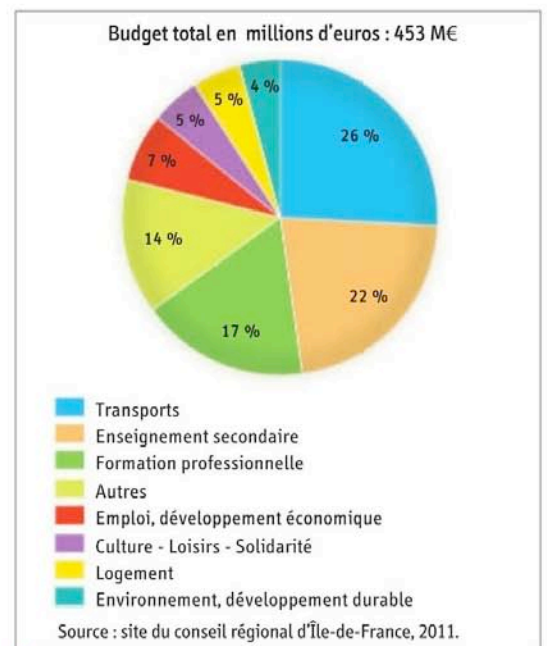
Chapitre 7. LA RÉGION ÎLE-DE-FRANCE

2. Expliquer un enjeu d'aménagement du territoire régional de l'Île-de-France.



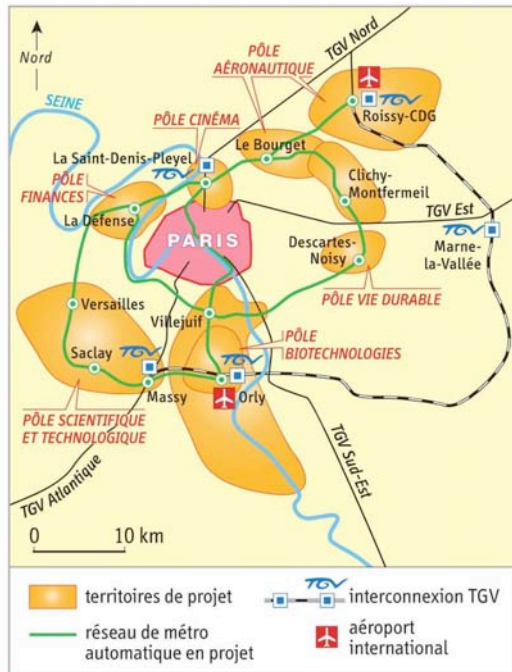
2 Un acteur de l'aménagement des transports

La région Île-de-France participe au financement de son train régional appelé Transilien.




3 Les dépenses de l'Île-de-France

Chapitre 7. LA RÉGION ÎLE-DE-FRANCE



4 Le projet du Grand Paris
 Ce projet de réseau a été décidé suite aux tensions entre l'État, désireux d'accroître le rôle de Paris, en reliant ses pôles économiques, et le conseil régional, davantage soucieux des besoins quotidiens des habitants.



5 Un Territoire de Projet : Saint-Denis-Pleyel (Seine-Saint-Denis)
 La région Île-de-France participe à l'aménagement de ce quartier destiné à devenir un pôle mondial d'excellence de la création audiovisuelle.
 1 Stade de France. 2 Tour Pleyel (immeuble de bureaux). 3 Construction de la Cité Européenne du Cinéma sur un ancien site EDF. 4 La Seine.

- Le rôle du conseil régional

Doc. 1 et 2 Quel est le rôle du conseil régional d'Île-de-France dans l'aménagement du territoire ? Développez deux exemples.

.....

.....

.....

Doc. 3 Quels sont les trois premiers postes de dépenses de l'Île-de-France ?

.....

.....

- Un enjeu d'aménagement

Doc. 4 et 5 Identifiez les aménagements régionaux prévus dans le projet du Grand Paris.

.....

.....

.....

Doc. 4 Quels sont les acteurs impliqués dans ce projet ?

.....

.....

.....

Doc. 4 et 5 Montrez que ce projet dépasse le cadre de la région et qu'il répond aussi à des besoins nationaux et européens.

.....

.....

.....

.....