

Chapitre 4. LA GUERRE FROIDE

1. Décrire et expliquer la création de l'ONU.

F I C H E D ' I D E N T I T É

Nom: Date de naissance:

..... Lieu de naissance:

Contexte historique:

.....

Nombre d'États fondateurs: Siège actuel:

Les cinq membres permanents du Conseil de sécurité :

.....

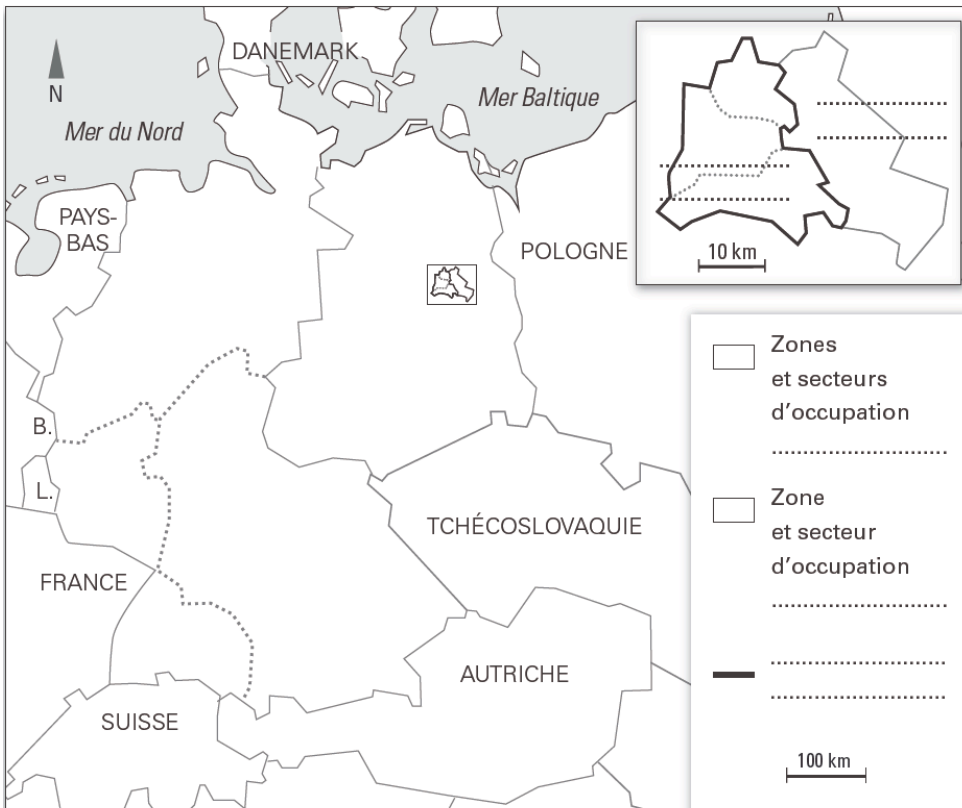
Texte fondateur :

Mission:

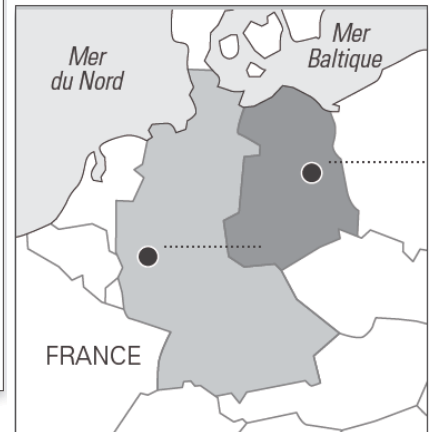
.....

2. Raconter la crise de Berlin et expliquer en quoi elle est révélatrice de la situation de guerre froide.

- Coloriez en bleu les zones d'occupation américaine, britannique, française ainsi que les secteurs d'occupation occidentaux de Berlin. Puis nommez Berlin-Ouest.
- Coloriez en rouge la zone d'occupation soviétique ainsi que le secteur d'occupation oriental de Berlin. Puis nommez Berlin-Est.
- Tracez d'un trait noir épais le rideau de fer.
- Complétez la légende.



L'Allemagne en 1945-1948



L'Allemagne entre 1949 et 1989

- Complétez la carte en plaçant RFA, RDA, Bonn et Berlin.

Chapitre 4. LA GUERRE FROIDE

• Plantu, *Le Monde*, Une du 11 novembre 1989.


- Présentez le document et le contexte de sa réalisation

.....
.....
.....
.....
.....

- Présentez les principaux acteurs de la scène en les coloriant différemment

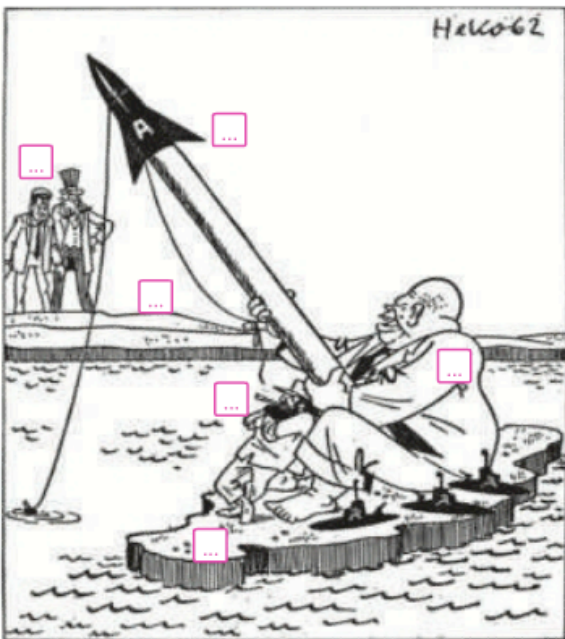
.....
.....
.....
.....
.....

- Coloriez le mur de Berlin et écrivez la phrase manquante



3. Raconter la crise de Cuba et expliquer en quoi elle est révélatrice de la situation de guerre froide.

La crise de Cuba vue par un caricaturiste allemand



« Comment ça une menace ? On peut quand même bien s'adonner un peu à la pêche, non ? »

En 1962, Fidel Castro **1** a pris le pouvoir à Cuba **2** et s'allie avec l'URSS de Khrouchtchev **3**. Celui-ci décide d'y installer des missiles nucléaires **4** visant les États-Unis **5**. Le président Kennedy **6** réplique par le blocus de l'île de Cuba. Le monde est alors au bord d'une guerre atomique. L'URSS finit par retirer ses fusées.

- D'après la caricature, où et à quelle date les deux Grands s'affrontent-ils ?

.....
.....
.....
.....

- À l'aide de la légende, identifiez les différents éléments de cette caricature.

- Comment le Président américain réplique-t-il à la menace soviétique ?

.....
.....
.....
.....
.....

- Comment cette crise se termine-t-elle ?

.....
.....
.....
.....
.....
.....
.....

Chapitre 4. LA GUERRE FROIDE

4. Connaître et utiliser la carte des blocs au moment de la guerre froide.

- Coloriez en vert les États du bloc de l'Ouest • Nommez l'État qui est à la tête du bloc de l'Ouest • Coloriez en rouge les États du bloc de l'Est • Nommez l'État qui est à la tête du bloc de l'Est • Complétez les crises et conflits majeurs de la guerre froide (lieu et date) • Complétez la légende et nommez les océans • Donnez un titre à votre carte.

1. Le bloc de l'Ouest

- Pays membres de l'OTAN
- Alliés des États-Unis non membres de l'OTAN

2. Le bloc de l'Est

- Pays membres du pacte de Varsovie
- Alliés de l'URSS

3. Les grandes crises

- Crises
- Conflits

5. Connaître et décrire la nature des blocs au moment de la guerre froide.

BLOC DE L'OUEST	Autres noms du bloc :	BLOC DE L'EST	Autres noms du bloc :
	Pays leader :		Pays leader :
	Doctrines de référence :		Doctrines de référence :
	Type de démocratie :		Type de démocratie :
	Nom de l'aide économique du leader :		Nom de l'aide économique du leader :
	Nom de l'organisation militaire commune :		Nom de l'organisation militaire commune :
	Nom de l'État allemand appartenant au bloc :		Nom de l'État allemand appartenant au bloc :
Mode de relation avec l'autre bloc :	Mode de relation avec l'autre bloc :		